

انتاج كتابي سنة اولى "ج"

1 / أنامل المشهد و أرتب الجمل ثم أنتج نصا على كراسي



رتب مكتبه و نظف غرفته	
فتح النافذة	
أفاق حاتم من نومه	

2 / أعيد كتابة النص على كراسي معوضا حاتم ب مرام



3 / أرتب الكلمات للحصول على جمل

الأصدقاء

الجدة

زار

ضبيعة

أثري الجملة و أعيد كتابتها

المنرسة

ساحة

نظف

الغلامية

أثري الجملة و أعيد كتابتها



....

4 / أثري بالزمان المناسب

- *قصدت ربيب مدرستها و البسمة تعلو ثغرها .
- *خرج أحمد للعب في الحديقة مع كلبه لولو
- *اجتمعت العائلة لتناول وجبة الغداء.
- *الطقس شديد البرودة.
- *دلف سالم الى غرفته لينام
- *ذهبت العائلة لزيارة الجدة فاطمة.....
- *ارتدى مراد ميدعته النظيف



5 / أثري بالمكان المناسب

- *اصطف التلاميذ بنظام لتحية لعلم .

- * جلست العائلة لمشاهدة التلفاز.....
- * خرجت سلمى..... لتقطف أزهارا تعبق بالعطر.
- * جلس سامي يطالع قصة شيقة.....
- * سمر يلاحق الفراشات المزركية.
- * يتناول فطور الصباح الصحي.

أعيد كتابة الجملة و أعوض رحاب ب منير معبرا ما يحب تغييره



أشرقت شمس الصباح معلنة
عن بداية يوم جديد و داعبت
أشعتها جفني رحاب فأفاقت
من نومها في نشاط و
حيوية. تنظفت رحاب و
تعطرت ثم أفطرت و رتبت
غرفتها.

قراءة سنة أولى 'ج'

النص

أشرقت غزالة الكون معلنة عن بداية يوم جديد فأفاقت سمية
النشيطة من نومها العميق.

غسلت سمية وجهها و أطرافها بالماء و الصابون و نظفت
أسنانها بالفرشة و المعجون و سرحت شعرها الجميل و
تناولت فطورها الصحي ثم ارتدت ثيابها الجديدة و قصت
مدرستها و البسمة تعلو ثغرها

في الطريق التقت سمية بصديقتها كريمة فقالت لها:

" اليوم ستزورنا الممرضة أنا لست خائفة فالتقيح يحمينا."

أجابت كريمة مبتسمة: " أنا أيضا لست خائفة فالممرضة
لطيفة."



1 / ألون شخصيات النص

كريم	كريمة	سامي	سمية	الممر
------	-------	------	------	-------

2 / أكتب صواب أو خطأ و أبحث عن القرينة

سمية بنت كسولة
القرينة	

الممرضة تعامل الاطفال بلطف

القرينة

3 / أشطب الخطأ



- تدور أحداث النص في المساء
- سمية بنت حريصة على صحتها
- كريمة بنت شجاعة

4 / متى دارت أحداث النص؟



5 / أبدى رأيي بكتابة "أستحسن" "لا أستحسن"

..... سلوك سمية و صديقتها

..... لان

5 / أَعْمِرِ الْجَدُولَ بِكَلِمَاتٍ مِنَ النَّصِّ

ف	ن	ك	ق
.....
.....


6 / أَقْسِمِ الْكَلِمَاتِ إِلَى مَقَاطِعِ

أَفَاقَت	تَنَاولَت	لَطِيفَةٌ	مَبْتَسِمَةٌ
□ □ □	□ □ □ □	□ □ □ □	□ □ □ □ □


7 / أَكُونِ كَلِمَاتٍ تَمَّ أَكُونُ بِهَا جُمْلَةٌ

ط غ ق ت	ب ن م م	ر ه ن ق	ق ا ل غ ر ل
---------	---------	---------	-------------


اكتب اسم الصورة من خلال الحروف والمقاطع المبعثرة



ز - ة - ة



ه - ا - ة - ج



د - ج - ة - را



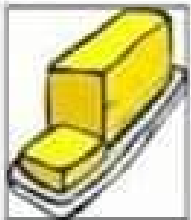
ز - ي - ة - ة



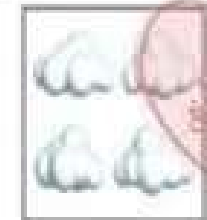
خ - د - ة - ب



ب - د - ة



ز - ي - ة - ة



خ - د - ة - ب



ب - د - ة



ز - ي - ة - ة




خ - د - ة - ب



ب - د - ة

اكتب اسم الصورة من خلال الحروف والمقاطع المبعثرة



ن - ة - ة - نو



ل - ة - ن - ة




ر - ا - ة - ز - ة



ن - ة - ة - نو



ل - ة - ن - ة




ر - ا - ة - ز - ة



ل - ب - ة - ز



ل - ة - ن - ة



ر - ا - ة - ز - ة



ل - ب - ة - ز



ل - ة - ن - ة



ر - ا - ة - ز - ة


اكتب اسم الصورة من خلال الحروف المبعثرة ...



ز - ج - ة



ز - نو



ن - نو



ز - ج - ة



ز - نو



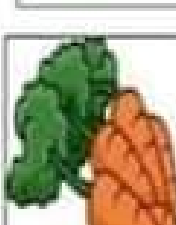
ن - نو



ز - ة - ة - ة



ب - ز - ج - ة



ز - ز - ج - ة



ز - ة - ة - ة



ب - ز - ج - ة



ز - ز - ج - ة



ب - د - ة - ة



ب - ا - ر - ة



ب - ا - ر - ة



ب - د - ة - ة



ب - ا - ر - ة



ب - ا - ر - ة



ب - ا - ر - ة



ب - ا - ر - ة



ب - ا - ر - ة



ب - ا - ر - ة



ب - ا - ر - ة



ب - ا - ر - ة

رياضيات سنة أولى 'ج'

حساب ذهني

أنا العدد السابق لـ 6 من أكون ؟

أنا العدد اللاحق لـ 8 من أكون ؟

أنا العدد المحصور بين 6 و 8 من أكون ؟

نحن الاعداد المحصورة بين 3 و 7 من نكون ؟

.....

أرتب الاعداد التالية تصاعديا 5 - 2 - 8 - 6 - 3

.....

أترب الاعداد التالية تنازليا 9 - 3 - 8 - 6 - 7

.....

أواصل العد بزيادة 2

13	11	1
----	----	----	----	----	----	---

أكتب العدد المناسب مكان النقطة

3	..	5	9	..
---	----	---	----	----	----	---	----



الوضعية 1

السند : تملك مريم 6 مئ و يملك حسان أكثر منها ب 2 مئ

أحسب مبلغ حسان

$$.. = .. + ..$$

أمثل مبلغ مريم و مبلغ حسان بأقل عدد من القطع النقدية

مريم	حسان

اشترت مريم قطعة حلوى ب 2 مئ و علكة ب 3 مئ

أحسب ثمن مشتريات مريم ثم أمله



$$.. = .. + ..$$

أراد حسان شراء مرطبة ب 8 مئ

هل يمكنه ذلك ؟

لماذا ؟



الوضعية 2

السند : خرجت مرام و منى و سمية الى الحديقة

قطفت سمية 4 زهرات و قطفت منى عددا محصورا بين 5 و 7

و قطفت مرام عددا اقل من سمية ب 1

ارسم مجموعة ازهار كل بنت و اكتب كمها



سمية	منى	مرام

ارتب عدد ازهار الصديقات الثلاثة من الاكبر الى الاصغر

.. < .. < ..

-- = -- + --

احسب عدد ازهار سمية و منى

-- = -- + --

احسب عدد ازهار مرام و منى

-- = -- + --

احسب عدد ازهار مرا و سمية



أربط كل لافتة بالقيمة المناسبة لها



1+2	1+1	3+1	3+2	أربعة	اثنان	خمسة	ثلاثة	صفر	واحد
-----	-----	-----	-----	-------	-------	------	-------	-----	------

ستة	ثمانية	تسعة	سبعة	عشرة	3+4	3+7	4+5	2+6	1+5
-----	--------	------	------	------	-----	-----	-----	-----	-----



أتسلى

أحسب و ألون

مروى
المديمغ

4 أخضر - 3 وردي - 2 أصفر - 1 أزرق فاتح
8 برتقالي - 7 أزرق داكن - 6 بنفسجي - 5 أحمر

