

**PLUS ONE GEOGRAPHY**  
**CHAPTER WISE SORTED QUESTION BANK**  
**2006 To- 2020**

**Part II. Chapter 4**

**INDIA – CLIMATE**

**Prepared by**



**SHANEES ANSARI P**  
**HSST GEOGRAPHY**  
**GVHSS MANANTHAVADY**  
**WAYANAD**  
**9947994140**

**Courtesy:** 1. **Swathi V**, HSST Geography, EKNS GHSS Vengad, Kannur  
2. **Sheeena K**, HSST Geography, GHSS Pallikkunnu, Kannur.  
3. **Muhammed Rafi P**, HSST Geography, GHSS Pookkuttur, Malappuram  
4. **Shuhib CH**, HSST Geography, GHSS Irikkur, Kannur  
5. **Vipinlal CH**, HSST Geography, HSS Kariyad, Kannur

**Part II. Chapter 4**  
**INDIA - CLIMATE**

7. What is the explanation you will provide for the rainfall in the north-west part of India during winter season ? (Score 1)

March 2006

23. A Periodic wind enters through the seas located on either side of the Indian Sub-continent significantly influences the climate of India. Examine the statement and write an account on it. (Score 8)

March 2006

17. Koeppen has identified two types of climates associated with the monsoon in South India. Mention the letter symbol used, type of climate and also the area where it is seen. Complete the columns below.

(3)

Letter Symbol	Type of Climate	Area

17. മൺസൂണുമായി ബന്ധപ്പെട്ട രണ്ടു തരം കാലാവസ്ഥകൾ കോപ്പൺ കണ്ടെത്തിയിട്ടുണ്ട്. ഇവ ഏതെല്ലാമെന്നും, എവിടെയെല്ലാം കാണപ്പെടുന്നു എന്നും, അക്ഷരസൂചകം ഏതെന്നും തിരിച്ചറിഞ്ഞു താഴെ കൊടുത്തിരിക്കുന്ന പട്ടിക പൂർത്തിയാക്കുക.

(3)

അക്ഷര സൂചകം	കാലാവസ്ഥ തരം	പ്രദേശം

June 2008

16. Identify the type of climate according to Koeppen's scheme in the regions cited and complete the table. (2)

	Regions	Climatic type
a)	Corromandel coast of Tamilnadu	
b)	Jammu and Kashmir	
c)	Peninsular plateau	
d)	Arunachal Pradesh	

16. കോപ്പൺന്റെ കാലാവസ്ഥ വർഗ്ഗീകരണത്തിനെ അടിസ്ഥാനമാക്കി ഏതുതരം കാലാവസ്ഥയാണ് താഴെ നൽകിയിട്ടുള്ള പ്രദേശങ്ങളിൽ അനുഭവപ്പെടുന്നത് എന്ന് കണ്ടെത്തി പട്ടിക പൂർത്തിയാക്കുക. (2)

(2)

	പ്രദേശങ്ങൾ	കാലാവസ്ഥ വിഭാഗം
a)	തമിഴ്നാട്ടിലെ കോറോമാണ്ടൽ തീരം	
b)	ജമ്മു കാശ്മീർ	
c)	ഉപദ്വീപായ പീഠഭൂമി	
d)	അരുണാചൽ പ്രദേശം	

March 2009

02.08.2021  
14. 'Tamil Nadu remains dry during the South West monsoon season'. Comment on this statement. (4)

14. 'തെക്കുപടിഞ്ഞാറൻ മൺസൂൺ കാലത്തു തമിഴ്നാട് വരണ്ടതായിരിക്കുന്നു.' ഈ പ്രസ്താവനയെ വിലയിരുത്തുക. (4)

March 2010

19. The onset of monsoon brings relief to India and it even unites India in many aspects. Give a brief description on the major characteristics of monsoonal rainfall and specify how it affects the economic life in India. (4)

19. മൺസൂൺ മഴയുടെ വരവ് ഇന്ത്യയെ സംബന്ധിച്ചുത്തോളം വളരെ ആശ്വാസകരവും ഇന്ത്യയിലെ വിവിധ രംഗങ്ങളെ കോർത്തിണക്കുന്നതുമാണ്. മൺസൂൺ മഴയുടെ പ്രധാന സവിശേഷതകളെ കുറിച്ച് ഒരു ലഘു വിവരണം നൽകി, ഇത് ഇന്ത്യയുടെ സാമ്പത്തിക മേഖലയിൽ ചെലുത്തുന്ന സ്വാധീനം വ്യക്തമാക്കുക. (4)

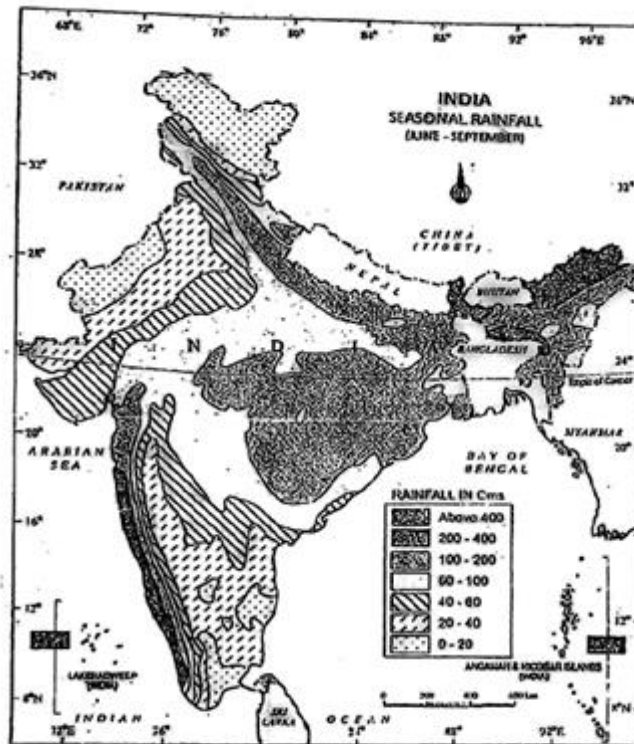
September 2010

8. 'India's climate is controlled by a number of factors'. Comment on this statement. (4)

8. 'ഇന്ത്യയുടെ കാലാവസ്ഥ വിവിധ ഘടകങ്ങളാൽ നിയന്ത്രിക്കപ്പെടുന്നു' ഈ പ്രസ്താവന സാധൂകരിക്കുക. (4)

March 2011

19.



Given map shows the distribution of rain fall in the south west Monsoon season . Analyse the spatial pattern of distribution of rainfall and discuss the characteristics of monsoonal rainfall. (Score 3)

തെക്ക് പടിഞ്ഞാറൻ കാലവർഷ സമയത്തെ മഴ വിതരണത്തിന്റെ രൂപമാണ് തന്നിരിക്കുന്നത്. വിവിധ പ്രദേശങ്ങളിലെ മഴ വിതരണം വിശകലനം ചെയ്ത് മൺസൂൺ കാല വർഷത്തിന്റെ സവിശേഷതകൾ ചർച്ച ചെയ്യുക. (Score 3)

(Score 3)

October 2011



02.08.2021

15. Kerala receives heavy rainfall during the southwest monsoons. What type of rainfall is responsible for monsoon rains over Kerala? Give a diagrammatic representation and write a brief note. (3)

15. തെക്കുപടിഞ്ഞാറൻ കാലവർഷ സമയത്താണ് കേരളത്തിന് ശക്തമായ മഴ ലഭിക്കുന്നത്. ഏത് തരം വർഷപാതമാണ് കേരളത്തിലെ മൺസൂൺ മഴയ്ക്ക് കാരണമാകുന്നത്? ഇതിനെ കുറിച്ച് ഒരു ചിത്രസഹിതം ലഘു കുറിപ്പ് തയ്യാറാക്കുക. (3)

March 2012

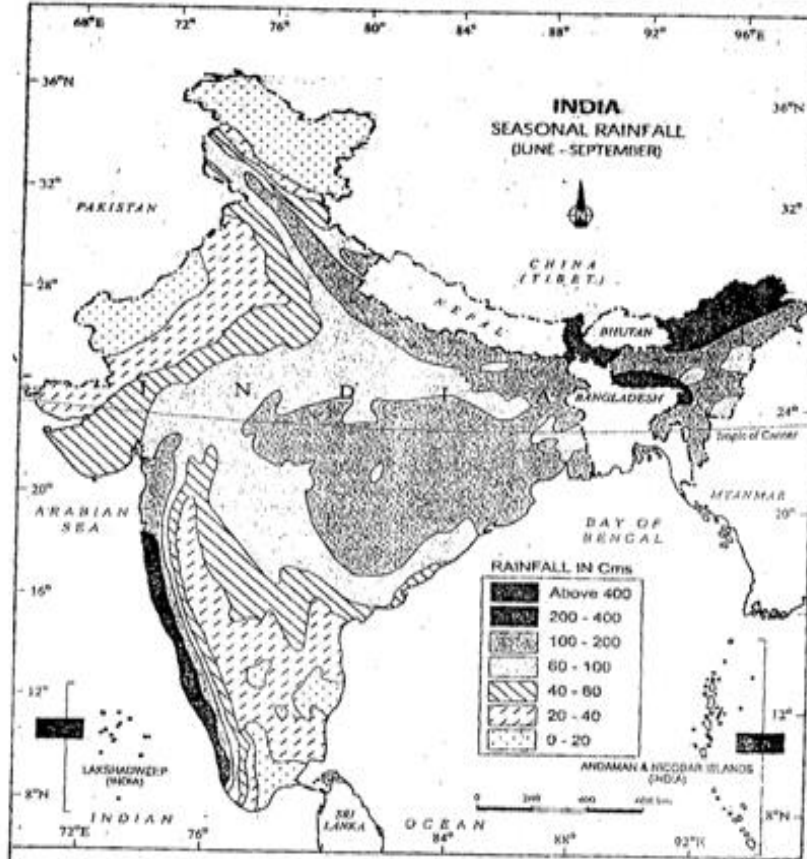
4 "Monsoons are the seasonal reversal of wind pattern". Name the two monsoon seasons in India with a short note. (2)

4. 'കാലാവസ്ഥാ മാറ്റങ്ങൾക്കനുസൃതമായി കാറ്റുകളുടെ ദിശയിലുണ്ടാകുന്ന വ്യതിയാനമാണ് മൺസൂൺ'. പ്രസ്താവനയുടെ അടിസ്ഥാനത്തിൽ രണ്ടു തരം മൺസൂൺ കാലങ്ങളെ കുറിച്ച് ചെറുകുറിപ്പ് തയ്യാറാക്കുക. (2)

March 2012

22. The map shows the seasonal distribution of rainfall in India from June to September. Analyse it. (3)

22. ജൂൺ മുതൽ സെപ്തംബർ വരെയുള്ള ഇന്ത്യയിലെ മഴയുടെ വിതരണമാണ് ഭൂപടത്തിൽ സൂചിപ്പിക്കുന്നത്. ഇത് വിശകലനം ചെയ്യുക. (3)



September 2012

02.08.2021 11. Monsoon rainfall is considered as the "lifeline of Indian agriculture." Briefly discuss this statement. (3)

11. 'ഇന്ത്യൻ കാർഷികവൃത്തിയുടെ ജീവനാഡിയാണ് മൺസൂൺമഴ' ഈ പ്രസ്താവനയെ കുറിച്ച് ചർച്ച ചെയ്യുക. (3)

March 2013

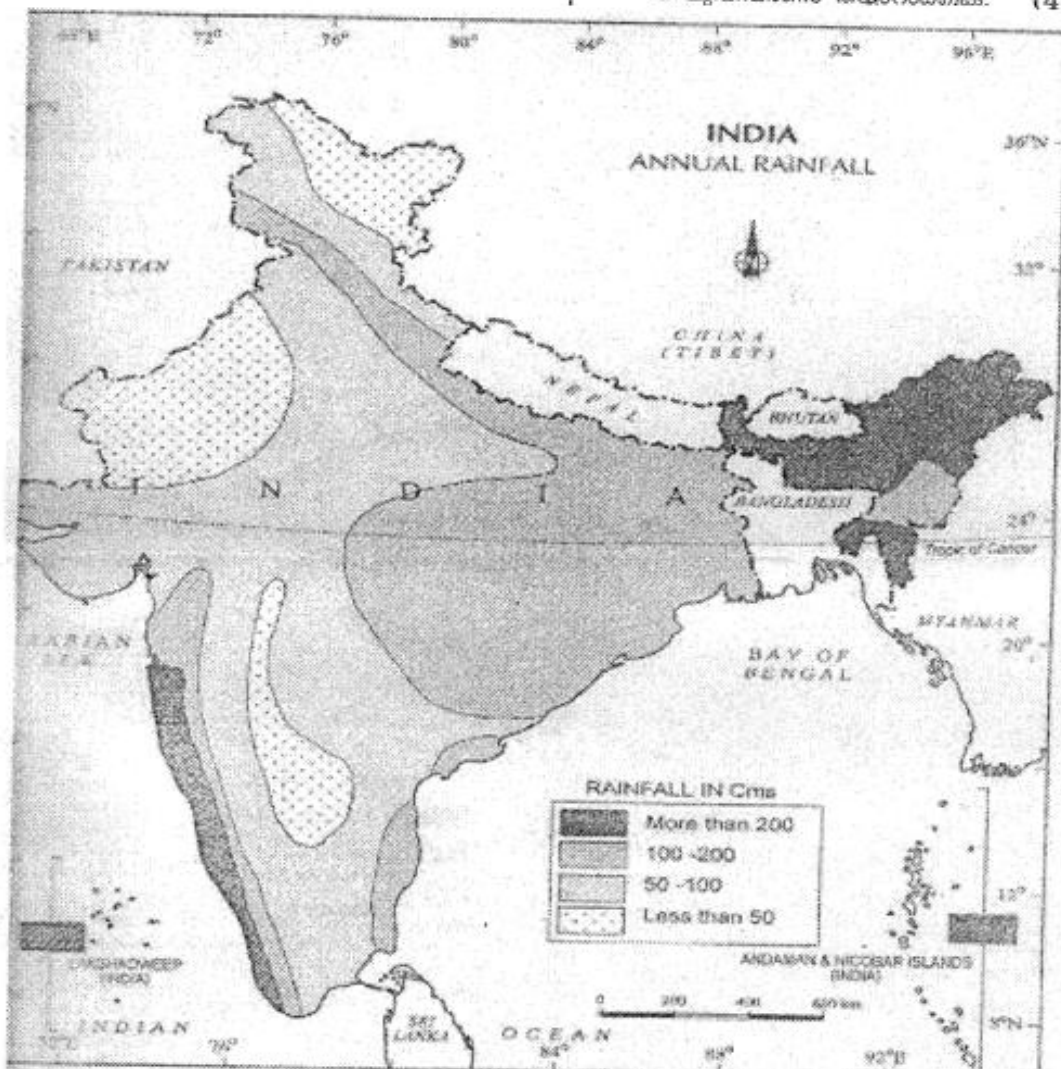
6. Mention any two characteristics of the South-West Monsoon in India. (2)

6. ഇന്ത്യയിലെ തെക്ക് പടിഞ്ഞാറൻ മൺസൂണിന്റെ ഏതെങ്കിലും രണ്ട് സവിശേഷതകൾ സൂചിപ്പിക്കുക. (2)

September 2013

22. Prepare a note based on the given annual rainfall distribution map of India. (4)

22. തന്നിട്ടുള്ള ഇന്ത്യയുടെ വാർഷിക വർഷപാത വിതരണത്തെ കാണിക്കുന്ന ഭൂപടത്തെ അടിസ്ഥാനമാക്കി ഒരു ലഘുവിവരണം തയ്യാറാക്കുക. (4)

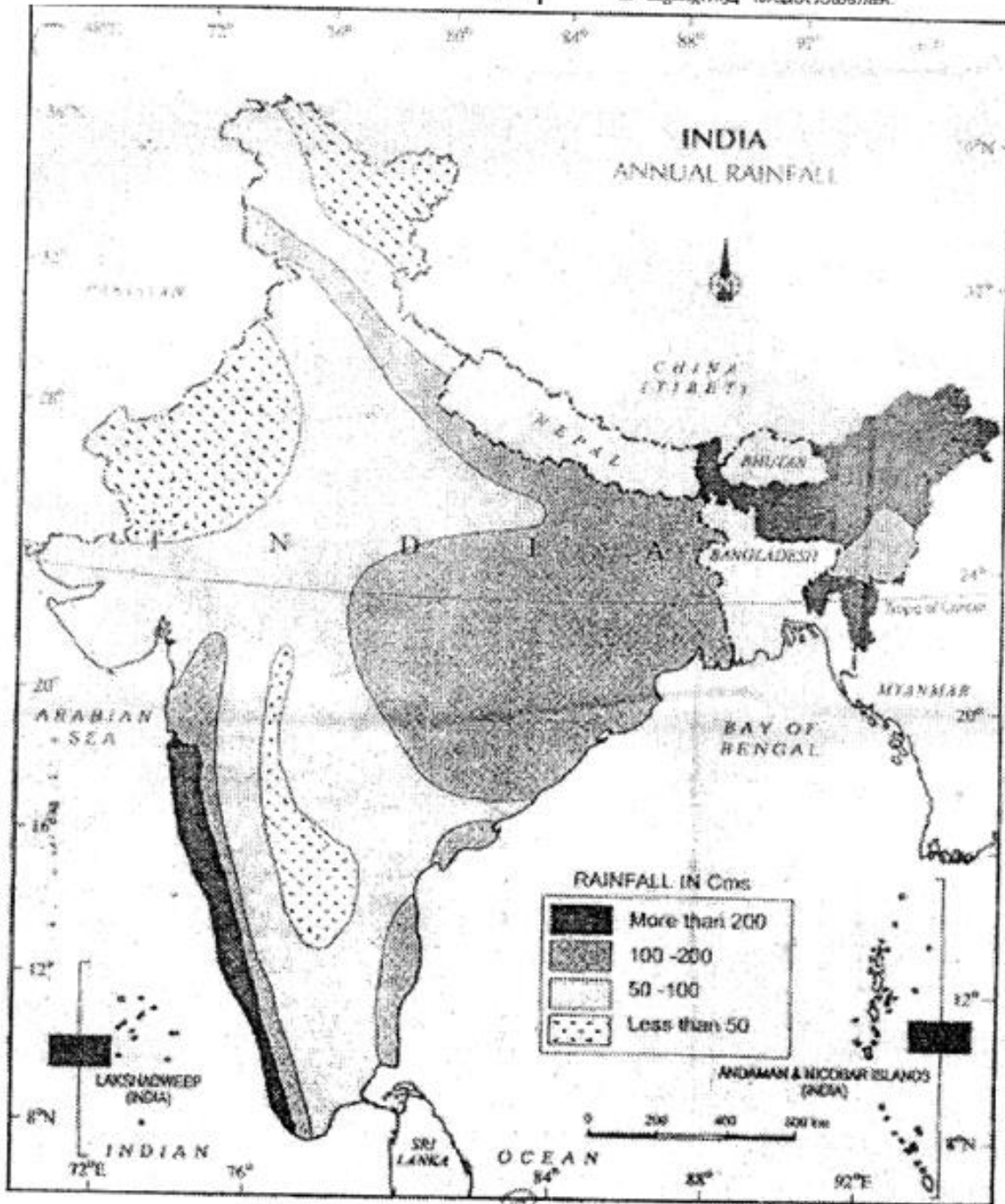


March 2014



- 02.08.2021
20. Prepare a brief note on the annual rainfall distribution of India based on the map provided. (4)

20. തന്നിരിക്കുന്ന ഭൂപടത്തിന്റെ അടിസ്ഥാനത്തിൽ ഇന്ത്യയിലെ മഴയുടെ വാർഷിക വിതരണത്തെക്കുറിച്ച് ഒരു ലഘുക്കുറിപ്പ് തയ്യാറാക്കുക.



September 2015 improvement

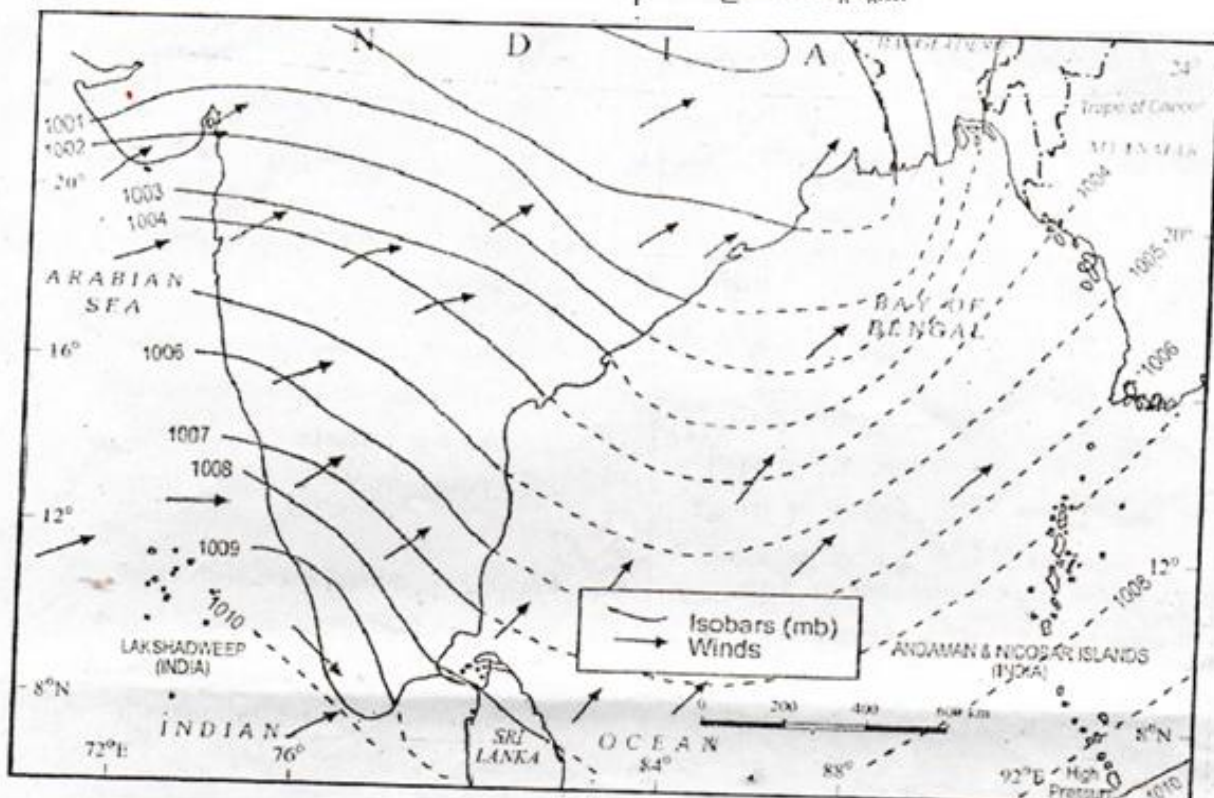
11. List the factors influencing the climate of India. (3)

11. ഇൻഡ്യയുടെ കാലാവസ്ഥയെ സ്വാധീനിക്കുന്ന പ്രധാന ഘടകങ്ങൾ എഴുതുക. (3)

March 2016

02.08.2021

10. Observe the given map and answer the following questions.



- Identify the season in India to which the given map is related.
- Mention the months during which this season is experienced.
- Explain the cause and effects of this phenomena.

(6)

10. തന്നിട്ടുള്ള ഭൂപടം നിരീക്ഷിച്ച് ചുവടെ ചേർത്തിട്ടുള്ള ചോദ്യങ്ങൾക്ക് ഉത്തരമെഴുതുക.

- ഈ ഭൂപടം ഇന്ത്യയിലെ ഏത് പ്രത്യേകമായി ബന്ധപ്പെട്ടിരിക്കുന്നു?
- ഏതൊക്കെ മാസങ്ങളിലായാണ് ഈ കാലം അനുഭവപ്പെടുന്നത്?
- ഈ പ്രതിഭാസത്തിനുള്ള കാരണവും അതിന്റെ ഫലങ്ങളും വിവരിക്കുക.

(6)

September 2016

10. Winter rainfall occurs in the North western parts of India.

- Explain the cause.
- Mention the role of westerly jet streams in it.
- How does this influence the agricultural sector in India?

(4)

10. ശൈത്യകാലത്ത് ഇന്ത്യയുടെ വടക്ക് പടിഞ്ഞാറൻ ഭാഗങ്ങളിൽ മഴയുണ്ടാകുന്നു.

- കാരണം വിശദമാക്കുക.
- ഇതിൽ ജറ്റ് പ്രവാഹങ്ങളുടെ പങ്ക് വ്യക്തമാക്കുക.
- ഇതിന് ഇന്ത്യയുടെ കാർഷിക മേഖലയിൽ എന്ത് സ്വാധീനമാണുള്ളത്?

(4)

March 2017

13. Analyze the influence of monsoon in the economic life of India.

(4)

13. ഇന്ത്യയിലെ സാമ്പത്തിക ജീവിതത്തിൽ മൺസൂണിന്റെ സ്വാധീനം വിശകലനം ചെയ്യുക.

(4)



- 02.08.2021
28. a) List the factors related to location and relief which play a decisive role in determining the climate of India. (3)
- b) Explain about any two of these factors. (3)

28. a) ഇന്ത്യയുടെ കാലാവസ്ഥ നിർണ്ണയിക്കുന്നതിൽ ഗണ്യമായ പങ്ക് വഹിക്കുന്ന സ്ഥാനവും ഭൂപ്രകൃതിയും സംബന്ധിച്ച ഘടകങ്ങൾ പട്ടികപ്പെടുത്തുക. (3)
- b) അവയിൽ ഏതെങ്കിലും രണ്ട് ഘടകങ്ങളെ കുറിച്ച് വിശദീകരിക്കുക. (3)

March 2018

28. 'Monsoon exerts a great influence on Indian economy'. Examine the statement. (6)

28. മൺസൂൺ ഇന്ത്യൻ സമ്പദ്‌വ്യവസ്ഥയെ വളരെയേറെ സ്വാധീനിക്കുന്നു. ഈ പ്രസ്താവന പരിശോധിക്കുക. (6)

August 2018

28. Explain the local storms of hot weather season in India.

28. ഉഷ്ണ കാലങ്ങളിൽ ഇന്ത്യയിൽ രൂപപ്പെടുന്ന ശക്തമായ പ്രാദേശിക കാറ്റുകളെക്കുറിച്ച് വിശദീകരിക്കുക. (6)

March 2019

29. Explain the mechanism of weather in the winter season in India.

ഇന്ത്യയിലെ ശൈത്യകാല അന്തരീക്ഷസ്ഥിതിയെക്കുറിച്ച് വിവരിക്കുക. (6)

July 2019

29. Explain the various factors related to location and relief that determine the climate of India.

ഇന്ത്യയുടെ കാലാവസ്ഥയെ നിർണ്ണയിക്കുന്ന സ്ഥാനവും ഭൂപ്രകൃതിയും സംബന്ധിച്ച വിവിധ ഘടകങ്ങൾ വിശദീകരിക്കുക. (6)

March 2020

9. Monsoon influences the economic life of the Indian population. Justify this statement.

മൺസൂൺ ഇന്ത്യൻ ജനതയുടെ സാമ്പത്തിക ജീവിതത്തെ സ്വാധീനിക്കുന്നു. ഈ പ്രസ്താവനയെ സാധൂകരിക്കുക.

December 2020

21. India's climate is controlled by a number of factors. Write an account of any three factors. (3)

ഇന്ത്യയുടെ കാലാവസ്ഥയെ നിരവധി ഘടകങ്ങൾ സ്വാധീനിക്കുന്നു. ഏതെങ്കിലും മൂന്ന് ഘടകങ്ങളെക്കുറിച്ച് എഴുതുക.

December 2020



**SHANEES ANSARI.P**  
**HSST GEOGRAPHY**  
**GVHSS MANATHAVADY**  
**WAYANAD**  
**Mob. 9947994140**